

令和3年度  
社 会  
(一 般)

注 意

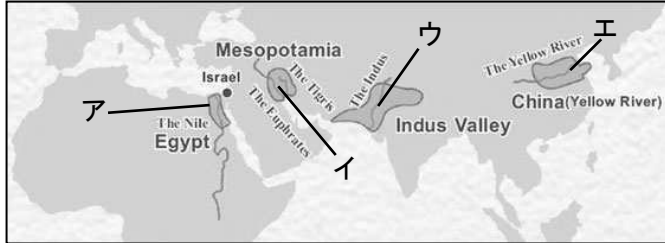
- 1 問題は1ページから11ページまであり、これとは別に解答用紙が1枚ある。
- 2 解答は、すべて別紙解答用紙の該当欄に書き入れること。



(一) A君は、旅行先で撮影した歴史上のできごとに関連する写真や資料を整理しながら、歴史の大きな流れを確認していた。写真や資料を参考にして、1～8の問いに答えなさい。



1 下の資料は、A君がある地域を旅行した際、その地域の博物館で手にした世界四大文明に関して紹介されたガイドブックの一部である。ガイドブックには、A君が旅行した地域で昔生まれた文明に関する紹介文が日本語でも書かれていた。

A君が旅行した地域として適当なものを、地図中のア～エから一つ選び、その記号を書け。



<ガイドブックの日本語訳>  
紀元前 3100 年ごろ、この川の流域に文明が生まれました。この川の定期的な氾濫は、あとに肥えた土を残し、農耕が発達しました。天文学や測量学も発達し、太陽の動きをもとにした太陽暦がつくられ、象形文字(ヒエログリフ)も発明されました。

2 右の写真のように、信者にとって最高の聖地にあたるこの地には神殿があり、中心の建物に向かって信者は礼拝している。全ての信者は世界中どこにいてもこの地へ向いて1日5回の祈りをささげる。この宗教の信者は、2013年現在で世界人口を約72億人とする、そのうち約16億人いるとされている。この地の地名と、世界の各宗教(信者数)の割合を表した円グラフ中のA～Dのうち、この宗教の信者数を示すものとの組み合わせとして最も適当なものを、ア～クから一つ選び、その記号を書け。



(『ブリタニカ国際年鑑 2014』などより)

- |              |              |
|--------------|--------------|
| ア {バチカン — A} | イ {バチカン — D} |
| ウ {メッカ — B}  | エ {メッカ — C}  |
| オ {バチカン — C} | カ {バチカン — B} |
| キ {メッカ — D}  | ク {メッカ — A}  |

3 右の写真のように、京都にあるこの建物は、阿弥陀仏の浄土をこの世に表現するためにある人物が建築した。建てられた当時は、摂関政治の時代であるとともに浄土教(阿弥陀信仰)がさかんになった時代だった。この建物を建てた人物と建物の名称の組み合わせとして適当なものを、ア～エから一つ選び、その記号を書け。



- |                   |                   |
|-------------------|-------------------|
| ア {藤原道長 — 平等院鳳凰堂} | イ {藤原頼通 — 平等院鳳凰堂} |
| ウ {藤原頼通 — 中尊寺金色堂} | エ {藤原道長 — 中尊寺金色堂} |

4 A君は、下の写真の建造物やその時代の様子に関する地図も利用しながら、いくつかのカードにまとめた。クラスの人たちにカードを示したところ、そのうち一枚は適当でないという指摘を受けた。適当でないカードを、ア～エから一つ選び、その記号を書け。



ア モンゴル帝国はフビライ=ハンの時代に宋(南宋)を滅ぼし、国号を元と改め、都を大都(現在の北京)に定めている。

イ 写真にみられる建造物は、文永の役の前に築かれたもので、元の再来襲に大きな役割を果たした。

ウ 写真にみられる建造物は、石塁(防塁)とよばれ、元の再来襲に備えて博多湾沿岸に築かれたものである。

エ モンゴル帝国は強力な騎馬隊を利用して領土を広げ、アジアだけでなくヨーロッパの一部にまで達する大帝国を築いている。

5 右の写真は、関西のある町で行われている祭りの様子である。「洛中洛外図屏風」にも描かれるこの祭りは平安時代に始まり、1467年に起きた乱によって中断したが、当時の有力な商人によって復興され現代まで続いている。ここでいう「1467年におきた乱」と「有力な商人」との組み合わせとして適当なものを、ア～エから一つ選び、その記号を書け。




ア {応仁の乱 — 町衆}      イ {壬申の乱 — 寄合}  
ウ {壬申の乱 — 町衆}      エ {応仁の乱 — 寄合}

6 右の写真の場所は、現在皇居とよばれている。以前は、違う目的の建物があった。この写真に関連する正しい説明文の組み合わせとして適当なものを、ア～エから一つ選び、その記号を書け。



a もともと幕府政治の中心となる江戸城があって、広大な城下町が形成されていた。  
b もともと朝廷政治の中心となる御所があって、碁盤の目のように町が形成されていた。  
c 各大名には武家諸法度が定められ、幕府と藩が土地や人民を統治する幕藩体制が成立していた。  
d 朝廷には禁中並公家諸法度が定められ、六波羅探題を置くなどその動きが監視されていた。  
ア a, c      イ a, d      ウ b, c      エ b, d

7 江戸時代中頃は、都市を中心に産業が発達したため、右の写真の場所を起点として道路の整備が進められた。このことは当時つくられた浮世絵にも表されている。この頃整備された交通や産業にかかわる説明文Ⅰ・Ⅱの正誤の組み合わせとして適当なものを、ア～エから一つ選び、その記号を書け。



Ⅰ 幕府は五街道を整備し、関所を置き、通行人を管理する一方、飛脚制度により通信も整備した。

Ⅱ 天下の台所と呼ばれた江戸には蔵屋敷があり、運びこまれた年貢米などが全国に流通した。

ア Ⅰ=正, Ⅱ=正      イ Ⅰ=正, Ⅱ=誤      ウ Ⅰ=誤, Ⅱ=正      エ Ⅰ=誤, Ⅱ=誤


8 右の写真の場所では、その町の奉行所の元役人だった人物が反乱を起こした記録として石碑が置かれていた。当時、飢饉が発生したにもかかわらず、幕府は有効な手だてを打つことができず社会不安は高まった。このような状況を受けてこの人物は幕府に対して反乱を起こしたが、これは幕府政治が次第に行き詰まりをみせていることを表していた。この反乱が起きた地名として適当なものを、ア～エから一つ選び、その記号を書け。

ア 江戸      イ 名古屋      ウ 長崎      エ 大阪



(二) B君は、クラスメートと協力して略年表を作成し、歴史の大きな流れを確認していた。略年表をもとに次の1～8の問いに答えなさい。

1 略年表中①について、以下の資料は、独立当初のある国の国旗である。これに関連する次の説明文Ⅰ・Ⅱの正誤の組み合わせとして適当なものを、ア～エから一つ選び、その記号を書け。



- Ⅰ 国旗の星と紅白のしまの数は、独立時の26州を表現している。フランスからの独立戦争で勝利し、今より多い州の数で国が成立している。
- Ⅱ 三権分立をかけた合衆国憲法が制定され、アメリカは国民の投票で選ばれた大統領を元首(国の代表者)とする絶対王政の国家となった。

年代	世界や日本のできごと
1770	①戦争のさなかに独立宣言を発表した
1840	ア
1860	②政権を朝廷に返すことが発表された
1870	イ
1880	③初の政党が日本で結成された
1890	④日本と中国が戦争した
1900	ウ
1910	⑤世界大戦が勃発した
1920	⑥国際平和への努力がなされた
1930	エ
1940	日本の敗戦後、⑦民主政治が開始された

ア I = 正, II = 正      イ I = 正, II = 誤      ウ I = 誤, II = 正      エ I = 誤, II = 誤

2 略年表中②について、このできごとの名称と、政権を朝廷に返すことを決めたこの時の江戸幕府の征夷大将軍の人名の組み合わせとして適当なものを、ア～エから一つ選び、その記号を書け。

- ア { 版籍奉還 — 徳川慶喜 }      イ { 大政奉還 — 徳川家茂 }  
 ウ { 大政奉還 — 徳川慶喜 }      エ { 版籍奉還 — 徳川家茂 }

3 略年表中③の頃には、自由民権運動を進める人たちが国会開設に備えて相ついで政党を結成した。この頃結成された政党にかかわる説明文Ⅰ・Ⅱの正誤の組み合わせとして適当なものを、ア～エから一つ選び、その記号を書け。

- Ⅰ 伊藤博文は、国会開設を天皇の名で約束し、自身で立憲改進黨を結成した。
- Ⅱ 大隈重信は、民撰議院設立の建白書を政府に提出し、その後、自由党を結成した。

ア I = 正, II = 正      イ I = 正, II = 誤      ウ I = 誤, II = 正      エ I = 誤, II = 誤

4 略年表中④について、この戦争の講和条約で得た賠償金の一部でつくられた官営工場が開業し、日本でも重化学工業が始まった。右の写真にあたるこの工場の名称として適当なものを、ア～エから一つ選び、その記号を書け。

- ア 満鉄      イ 富岡製糸場  
 ウ 八幡製鉄所      エ 葦山反射炉



5 略年表中⑤について、この世界大戦に関連する正しい説明文の組み合わせとして適当なものを、ア～エから一つ選び、その記号を書け。

- a ドイツ・オーストリア・イタリアは三国同盟を結び、地中海方面に力を伸ばそうとした。
- b イギリス・アメリカ・フランスは三国協商を結び、ドイツの動きを封じこめようとした。
- c 日本は、日英同盟に基づき三国同盟側に立って参戦した。
- d ロシアでは、大戦中にレーニン率いるロシア革命がおきた。

ア a, c            イ a, d            ウ b, c            エ b, d

6 略年表中⑥について、1920年代に進められた国際平和への努力の背景には、1919年にパリ講和会議で結ばれた講和条約と、この会議においてアメリカ大統領の提案で翌1920年に発足した国際機関の存在がある。講和条約と国際機関それぞれの名称の組み合わせとして適当なものを、ア～エから一つ選び、その記号を書け。

- ア {ポーツマス条約 — 国際連盟}            イ {ベルサイユ条約 — 国際連盟}  
ウ {ベルサイユ条約 — 国際連合}            エ {ポーツマス条約 — 国際連合}

7 略年表中⑦について、民主政治の基礎となるこの頃の選挙制度に関する説明文として適当なものを、ア～エから一つ選び、その記号を書け。

- ア 直接国税15円以上を納める25歳以上の男子が選挙権を持った。
- イ 婦人参政権が初めて実現し、18歳以上の男女はすべて選挙権を持った。
- ウ 納税額にかかわらず、25歳以上のすべての男子が選挙権を持った。
- エ 婦人参政権が初めて実現し、20歳以上の男女はすべて選挙権を持った。

8 B君はクラスメートが出題するいくつかの歴史クイズに答える形で略年表中の空欄 **ア** ～ **エ** のどれかに入る歴史上のできごとを考えた。クラスメートがヒントを用いながら出題しようとしている歴史上のできごとは、略年表中の空欄のどこに入れるべきか。入れるべき空欄として適当なものを、略年表中の**ア～エ**から一つ選び、その記号を書け。

B君の質問 その政策にはどういう特徴があるの？

旧藩主をその藩の行政から完全に切りはなして、各旧藩主は東京に集住させたという特徴があるよ。

クラスメートによるヒント

B君の質問 旧藩主を行政から完全に切りはなしたからといって、政府にとって何の利点があるの？

農民が旧藩主などの領主に毎年納めていた税（年貢）を政府が集めることができるようになったよ。つまり、これで政府の収入が安定的に確保できるという利点があったんだよ。

クラスメートによるヒント

B君の質問 いつ頃行われた政策なの？

今から100年以上前に行われた大改革だったよ。

クラスメートによるヒント

B君の質問 旧藩主がいたもとの地域は誰が行政を行ったの？


藩にかわって新たなものをおき、政府に任命された別の人（のちの知事）が行政を行ったよ。

クラスメートによるヒント

(三) 次の1～3の問いに答えなさい。

1 憲法と政治について、(1)・(2)の問いに答えよ。

(1) 資料Ⅰは国会の召集に関するものである。国会の召集は①ある地位の人が行う  ② の一つで、他には「衆議院の解散」や「法律や条約の公布」などがある。下線部①のある地位とは何か書け。また、②に入る語句を漢字四字で書け。



資料Ⅰ

(2) 資料Ⅱは、絶対王政のころの風刺画である。資料Ⅱの内容として適当なものを、ア～エから一つ選び、その記号を書け。

- ア 悪いことをすれば、何倍もの罰が与えられる。
- イ 専制政治によって、平民が重税をかけられ、貴族たちが暮らしている。
- ウ 高齢化により、二人の老人を一人の成人が支えている。
- エ 民主主義において多数決の原理では、少数意見は全て無視された。



資料Ⅱ

2 民主政治について(1)～(4)の問いに答えよ。

(1) 次に示すのは、日本の選挙区制に対するアンケートの回答の一部である。回答の内容を見て、該当する選挙区制の名称として適当なものを、ア～エから一つ選び、その記号を書け。

- ・この立候補者は落選だと思ったのに復活当選？大きな政党は得だな。
- ・はじめて衆議院議員選挙に行ったけど、2枚の投票用紙に書いて投票したよ。

ア 中選挙区制    イ 小選挙区制    ウ 大選挙区制    エ 小選挙区比例代表並立制

(2) 我が国の選挙制度の問題の一つに「一票の格差」がある。 議員・ 有権者数 の言葉を必ず用いて下記の「一票の格差」の説明を完成させよ。

各選挙区における  が異なること。

(3) 我が国では、住民投票条例に基づく住民投票が行われることが多くなっている。以下に示す住民投票の特徴 a～dの中から、内容が正しいものの組み合わせを、ア～エから一つ選び、その記号を書け。

- a 条例による住民投票の決定事項には法的拘束力を持つ。
- b 条例による住民投票の結果には法的拘束力はなく、住民の意思を問うものである。
- c 条例に基づく住民投票資格は、国によって定められており、18歳以上になっている。
- d 条例に基づく住民投票資格には、各地方公共団体で差もあり、中学生以上に投票権が認められたこともある。

ア a, c    イ a, d    ウ b, c    エ b, d

(4) 地方公共団体の財政について、使いみちが特定されており、公共事業や社会保障に要する費用など、国が進めようとする特定の仕事のために交付される財源は何か書け。

3 政治のしくみについて、(1)～(3)の問いに答えよ。

(1) 内閣総理大臣が欠けた場合、新しい内閣がどのような過程で成立するか、下記のア～ウを並べ替え、その記号を書け。

ア 内閣総理大臣の指名    イ 内閣総理大臣が国务大臣を任命    ウ 内閣の総辞職

(2) 衆議院と参議院の議決が一致しない場合、意見を調整するために衆参両院から選ばれた委員で会議が開かれることがあるが、その会議を何というか書け。

(3) 行政事務の処理・遂行にあたり、各省庁間の横の連絡・調整が不十分であり、国民からもむだが生まれていると指摘されている。2008年に消費者庁が設けられ、消費者事故に迅速・適切に対応できるようにしたのは、そういった行政上の問題を解消するための政策の一つである。波線部のような行政の名称として適当なものを、**ア～エ**から一つ選び、その記号を書け。

- ア** よこわり行政    **イ** たてわり行政    **ウ** たすきがけ行政    **エ** むだづかい行政

(四) 次の1・2の問いに答えなさい。

1 日本の財政と金融について、(1)～(4)の問いに答えよ。

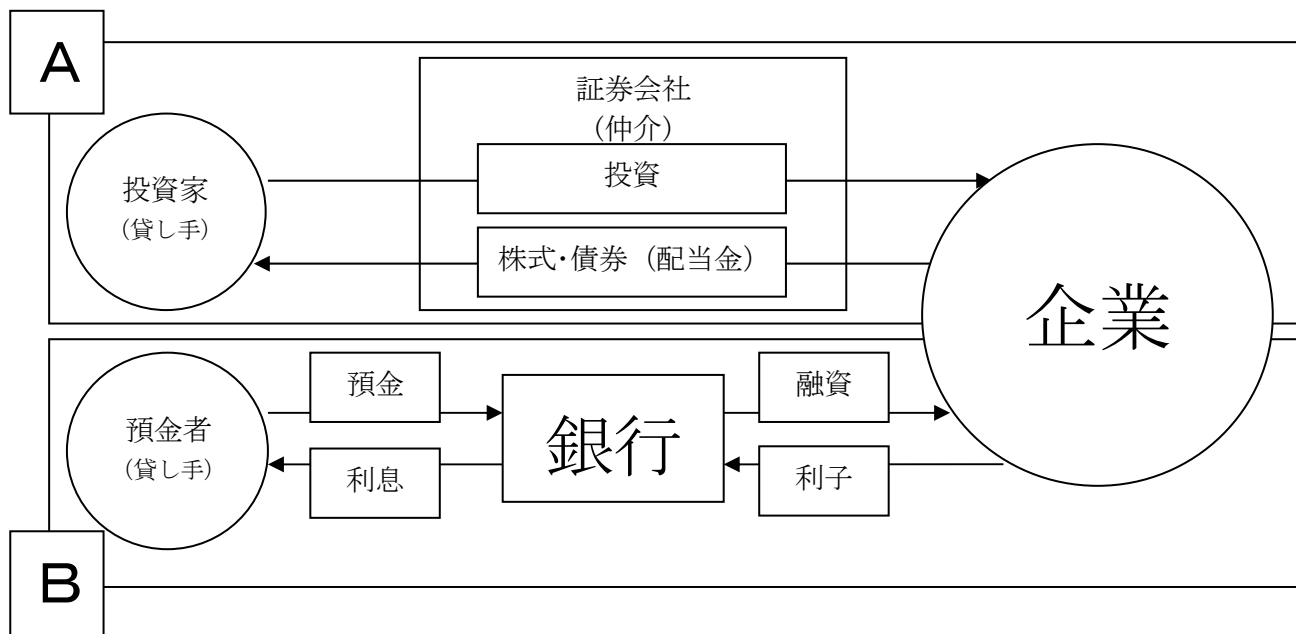
(1) 次の文章のうち、地方税に関する説明として適当なものを、**ア～エ**から一つ選び、その記号を書け。

- ア** 温泉に入浴したときにかかる入湯税  
**イ** 企業の利益に対してかかる法人税  
**ウ** アルコール1%以上の酒類にかかる酒税  
**エ** 個人の所得にかかる所得税

(2) 日本銀行が我が国の中央銀行として行っている活動として適当なものを、**ア～エ**から一つ選び、その記号を書け。

- ア** 公営水道料金の決定                      **イ** 公立学校授業料の決定  
**ウ** 国の予算の議決                          **エ** 銀行への資金の貸し付け

(3) 以下の図は、資金の流れを示したものである。**A**、**B**のうち、**A**の流れを何というか書け。



(4) 為替相場の変動は貿易に大きな影響を及ぼす。例えば1ドル=100円の時、日本製の300万円の自動車は3万ドルで取引される。為替相場が変動し、1ドルが120円になった場合、車の値段は何ドルになるか書け。


2 消費生活と経済のしくみについて、(1)～(4)の問いに答えよ。

(1) 次の文章のうち、Reduce(リデュース)に関する説明として適当なものを、**ア～エ**から一つ選び、その記号を書け。

- ア** 資源ごみの分別に積極的に協力する。  
**イ** 使い終わったピンを回収して再使用する。  
**ウ** スーパーで買い物をする際、マイバッグを持参する。  
**エ** フリーマーケットを積極的に利用する。



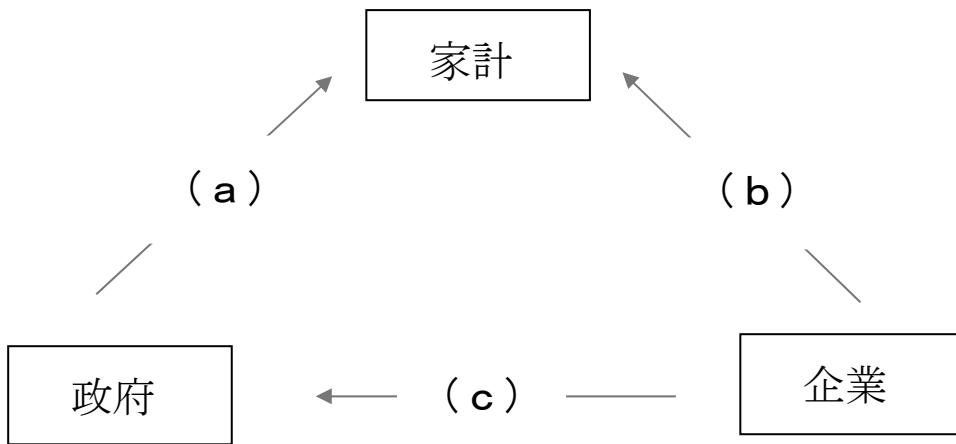
(2) 下の①～③のそれぞれのマークと、その説明文の組み合わせとして適当なものを、ア～カから一つ選び、その記号を書け。



- a 製品の安全性に関する基準に合格した生活用品につけられる。
- b 環境への負荷が少なく、環境保全に役立つと認められた商品につけられる。
- c 農薬や化学肥料などの化学物質に頼らず、自然の力で生産された食品につけられる。

- |                            |                            |
|----------------------------|----------------------------|
| ア {① a      ② b      ③ c } | イ {① a      ② c      ③ b } |
| ウ {① b      ② a      ③ c } | エ {① b      ② c      ③ a } |
| オ {① c      ② a      ③ b } | カ {① c      ② b      ③ a } |

(3) 経済主体の関係について、次の図の空欄(a)～(c)に入る適語の組み合わせを、ア～エから一つ選び、その記号を書け。



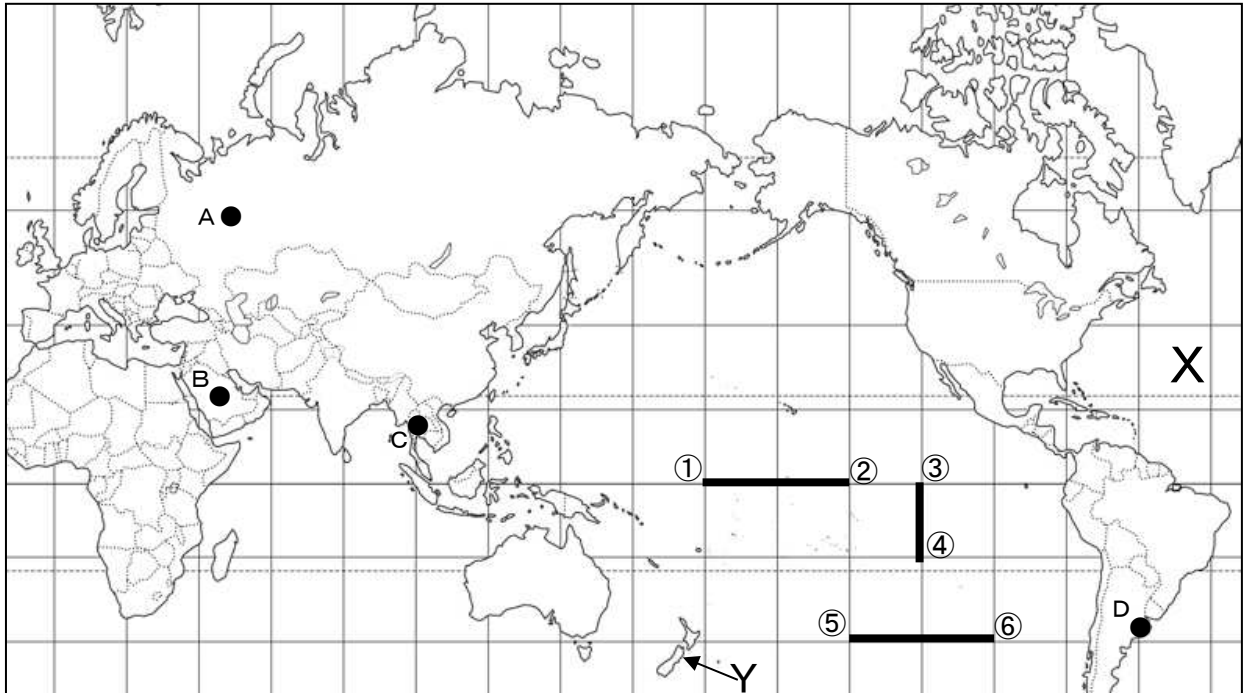
- |  |
|--|
| ア { a 社会資本・公共サービス      b 税金      c 財・サービス／賃金 } |
| イ { a 税金      b 財・サービス／賃金      c 社会資本・公共サービス } |
| ウ { a 財・サービス／賃金      b 社会資本・公共サービス      c 税金 } |
| エ { a 社会資本・公共サービス      b 財・サービス／賃金      c 税金 } |

(4) 複数の国に生産拠点を置き、国境を越えて活動する企業を何というか書け。

(五) 次の1～3の問いに答えなさい。

1 以下の地図を見て、(1)～(5)の問いに答えよ。

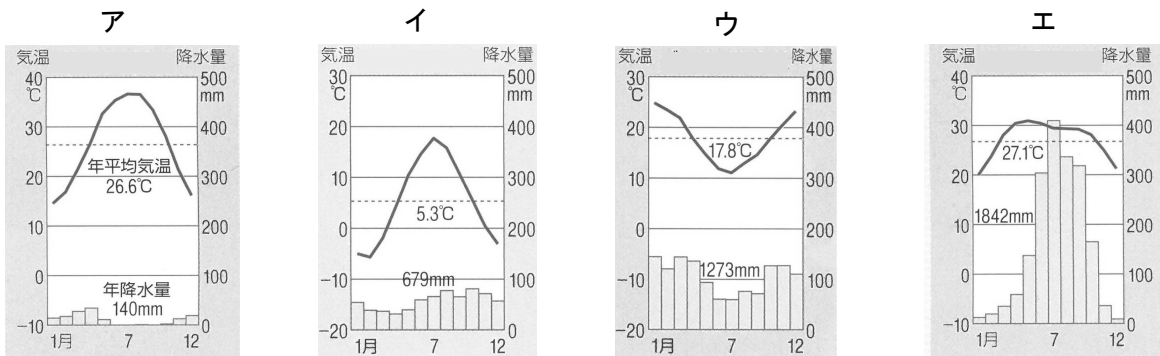
(1) 地図中A～Dは、それぞれの国の首都を示している。首都名の組み合わせとして適当なものを、ア～エから一つ選び、その記号を書け。



(地図中の経緯線はすべて20度間隔である)

- ア {Aーバンコク Bーリヤド Cーブエノスアイレス Dーモスクワ }  
 イ {Aーバンコク Bーモスクワ Cーリヤド Dーブエノスアイレス}  
 ウ {Aーモスクワ Bーリヤド Cーバンコク Dーブエノスアイレス}  
 エ {Aーモスクワ Bーブエノスアイレス Cーリヤド Dーバンコク }

(2) 次のグラフは、A～Dのいずれかの首都が属する気候区の気温と降水量を示したものである。Aに該当するグラフとして適当なものを、ア～エから一つ選び、その記号を書け。



(3) 地図に示した①ー②, ③ー④, ⑤ー⑥間の実際の距離にかかわる説明文として最も適当なものを、ア～エから一つ選び、その記号を書け。

- ア ①ー②間が最も長い。      イ ③ー④間が最も長い。  
 ウ ⑤ー⑥間が最も長い。      エ すべて同じ長さである。

(4) 地図中に示したXは、三大洋の一つである。その海洋の名称を書け。

(5) 地図中のYの国の先住民の名称と、この国で最も飼育が盛んな動物の名称の組み合わせとして適当なものを、ア～エから一つ選び、その記号を書け。

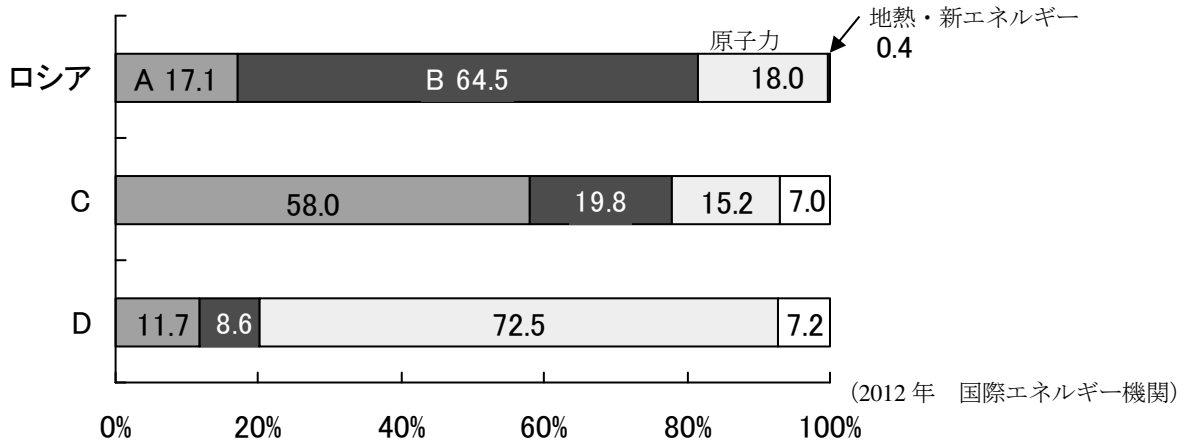
	ア	イ	ウ	エ
先住民	マオリ	マオリ	アボリジニ	アボリジニ
飼育が盛んな動物	豚	羊	豚	羊

2 次の(1)・(2)の問いに答えよ。

(1) 右の写真に見られる、発電などで利用され自然の中で繰り返し何度も利用でき、枯渇することのないエネルギー資源のことを何とよいか書け。



(2) 下のグラフは、各国の発電エネルギー源別割合を示したものである。A・Bには水力、火力のいずれかが、C・Dにはカナダ、フランスのいずれかが当てはまる。AとCの組み合わせとして適当なものを、ア～エから一つ選び、その記号を書け。



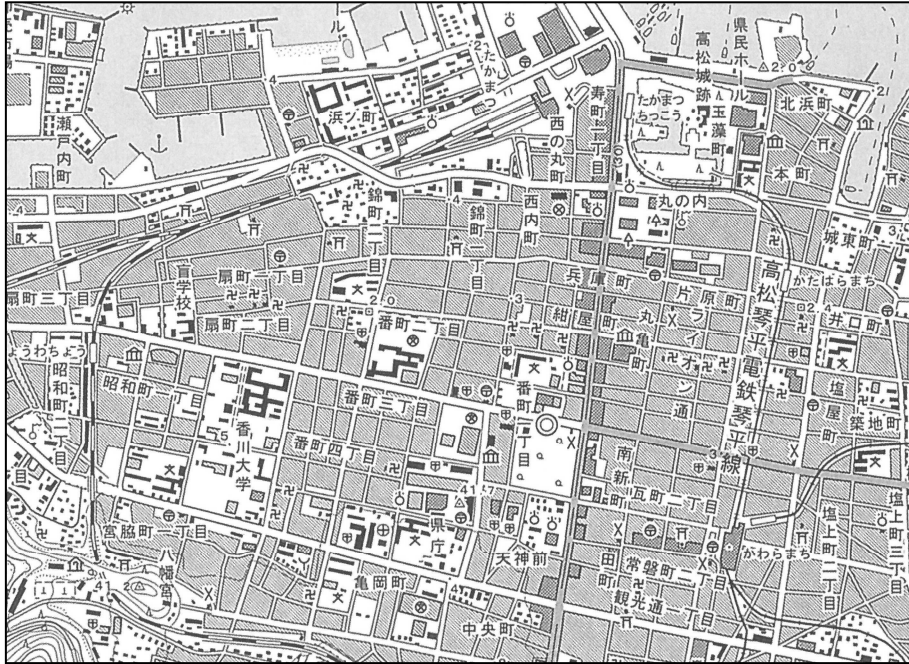
	ア	イ	ウ	エ
A	水力	水力	火力	火力
C	カナダ	フランス	カナダ	フランス

3 以下の説明文は、アジア州・南アメリカ州・ヨーロッパ州・オセアニア州の様子について述べたものである。ヨーロッパ州に該当する説明文として適当なものを、ア～エから一つ選び、その記号を書け。

- ア 全体的に日本より高緯度に位置するが、暖流の北大西洋海流と偏西風が寒さをやわらげているため、比較的温暖である。
- イ 南北に長いこの大陸の西部にはアンデス山脈が連なっている。アマゾン川などの大きな川が流れ、赤道に近い北部の気候は高温で雨が多い。
- ウ 草原や砂漠が国土の約3分の2をしめており、「乾燥大陸」と呼ばれる国がある。タヒチやニューカレドニアなど、リゾート地として発展している地域も多い。
- エ この州の中央部には、「世界の屋根」と呼ばれる標高の高い山脈が連なっている。世界の約6割の人々がこの州に住んでおり、中には10億人を超える国もある。

(六) 次の1～3の問いに答えなさい。

1 以下の2万5000分の1地形図「高松北部」を見て、(1)・(2)の問いに答えよ。



(1) 次の説明文は高松市街地を散策した時の内容をまとめたものである。文章中の下線部の内容が間違っているものを、①～④から一つ選び、その番号を書け。

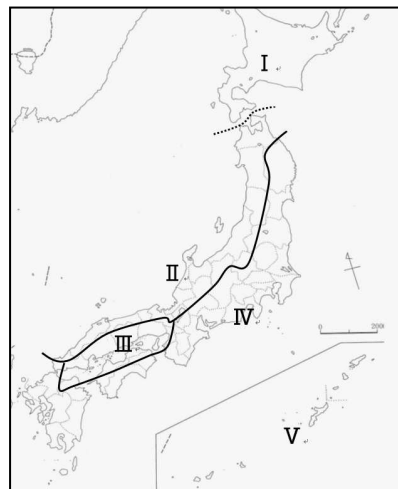
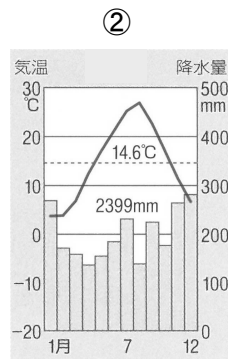
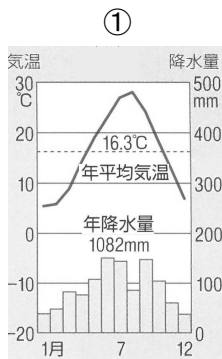
J R高松駅の南側の大通りを東に向かい、2つ目の交差点を①右に曲がると裁判所の前に出た。そのまま直進すると左手に②博物館が見える。さらに直進し市役所がある交差点を右に曲がった。そこから③3kmほど進むと香川大学の前に着いた。これまでに進んできた道を引き返し、高松城跡を見に行った。敷地内に④針葉樹林が並んでいたのが印象的だった。

(2) 地形図を正しく読み取った説明文として適当なものを、ア～エから一つ選び、その記号を書け。

- ア 海岸に面した地域は埋め立てを行っておらず、自然のままの姿が残されている。
- イ 香川大学南側の道路は西側にあるJ Rの線路の下を通っている。
- ウ 図中にはJ R以外の鉄道は見られない。
- エ 市役所の敷地内には果樹園が広がっている。

2 日本の気候について、(1)・(2)の問いに答えよ。

(1) 次の①・②の気温と降水量を表したグラフと同じ気候が見られる場所として適当なものを、図中のⅠ～Ⅳから一つずつ選び、その記号を書け。



- Ⅰ 北海道の気候
- Ⅱ 日本海側の気候
- Ⅲ 瀬戸内の気候
- Ⅳ 太平洋側の気候

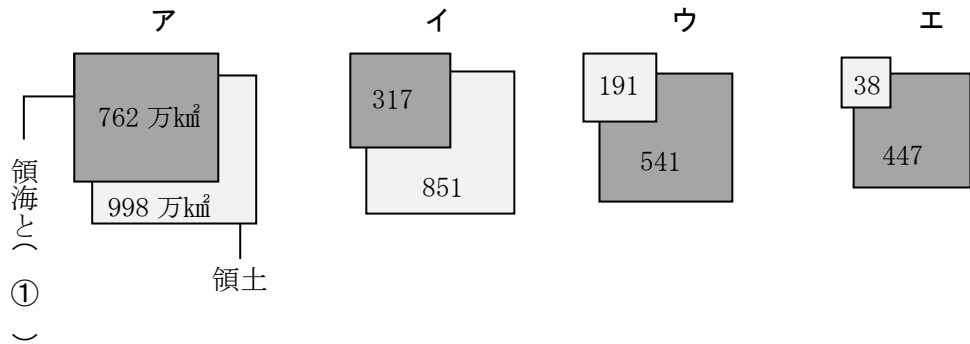
(2) 図中のⅤの地域の気候について、気温・降水量 の言葉を必ず用いて説明せよ。

3 次の説明文を読んで、(1)・(2)の問いに答えよ。

日本の領海の外側には水産資源や鉱産資源について、沿岸国が管理することができる(①)がある。(①)は領海の外側で沿岸から(②)海里以内までとされている。

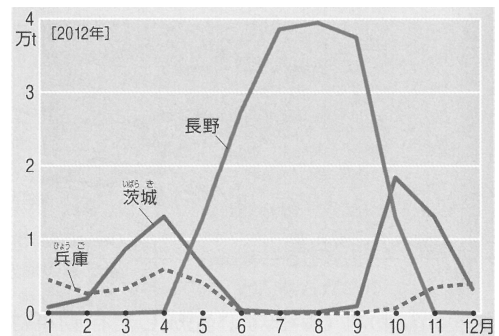
(1) 説明文中の(①)・(②)に当てはまる語句や数字を書け。

(2) 下の図は、日本・アメリカ・ブラジル・インドネシアの領海・(①)と領土の面積を模式的に表したものである。日本に該当するものとして適当なものを、ア～エから一つ選び、その記号を書け。



4 日本の農業について(1)・(2)の問いに答えよ。

(1) 右のグラフは、レタスの生産量上位3県の月別出荷量を表したものである。長野県が夏にレタスを多く出荷している理由として適当なものを、ア～エから一つ選び、その記号を書け。



- ア 夏でも冷涼な気候を生かした高原野菜を栽培する農業が盛んだから。
- イ 長野県は他県と比べて高緯度地方に位置するため、日照時間が少ないから。
- ウ 長野県は海に面していないため、他県に比べて農業人口の割合が大きいから。
- エ 最も東京に近いから、大消費地を背景に生産農家が増加したから。

(2) 右の写真はある農作物の収穫風景である。また、下の帯グラフはその農作物の主産県別割合である。この農作物の名称を書け。

