

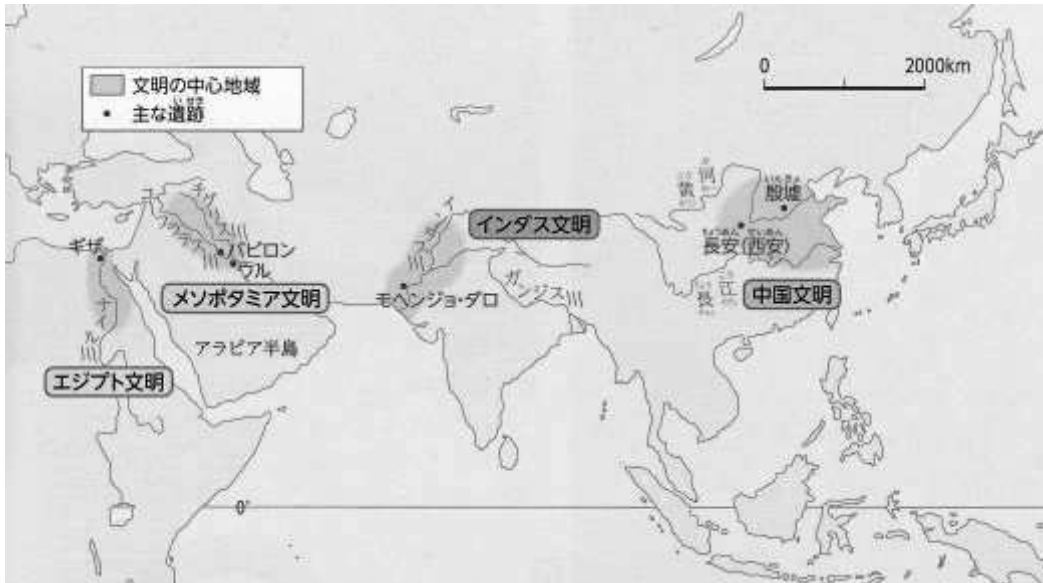
令和5年度
社 会
(一 般)

注 意

- 1 問題は1ページから12ページまであり、これとは別に解答用紙が1枚ある。
- 2 解答は、すべて別紙解答用紙の該当欄に書き入れること。

(一) 次の1～10の問いに答えなさい。

1 四大文明を表す次の地図にかかわる文Ⅰ～Ⅲを読み、正誤の組み合わせとして適当なものを、ア～カから一つ選び、その記号を書け。



- Ⅰ 赤道以南で起こった点が共通している。
- Ⅱ アジアと南アメリカ大陸で起こった。
- Ⅲ 大河のほとりで行った点が共通している。

ア Ⅰ＝正、Ⅱ＝正、Ⅲ＝正 イ Ⅰ＝正、Ⅱ＝誤、Ⅲ＝正 ウ Ⅰ＝正、Ⅱ＝誤、Ⅲ＝誤
エ Ⅰ＝誤、Ⅱ＝誤、Ⅲ＝正 オ Ⅰ＝誤、Ⅱ＝正、Ⅲ＝誤 カ Ⅰ＝誤、Ⅱ＝誤、Ⅲ＝誤

2 7世紀初めに唐が建国されてから、当時の日本では国の力をまとめる必要が出てきた。645年に中大兄皇子や中臣鎌足らは、中国から帰国した留学生や僧などの協力も得て新しい支配の仕組みを作る改革を始めた。この改革の名称を書け。

3 9世紀には、右の写真で表されるような文字を文学で用いるようになった。漢字を変形させ「竹取物語」や「古今和歌集」、「源氏物語」、「枕草子」にも使われた。この文字の名称として適当なものを、ア～エから一つ選び、その記号を書け。



ア 神聖文字 イ 仮名文字
ウ 甲骨文字 エ くさび形文字

4 12世紀には、平清盛によって政治が行われた。平氏の政治の特徴について、摂関政治と共通する点と異なる点をそれぞれ簡潔に説明せよ。

5 14世紀には、足利尊氏の孫にあたる人物が将軍になり、その頃にはこの人物が率いる幕府は全国を支配する唯一の政権になった。この際、将軍の補佐役が置かれた。足利尊氏の孫にあたる人名と将軍の補佐役の名称の組み合わせとして適当なものを、ア～カから一つ選び、その記号を書け。

- ア { 足利義政 — 執権 } イ { 足利義満 — 守護 } ウ { 足利義政 — 管領 }
 エ { 足利義満 — 執権 } オ { 足利義政 — 守護 } カ { 足利義満 — 管領 }

6 右の史料は、15世紀に起こった民衆の活動を表している。ここでいう民衆の活動の名称を書け。

正長元年ヨリサキハ、カンへ四カン
 カウニヲキメアルヘカラス
 (訳: 1428年以前の借金は神戸四か郷では帳消しにする。)

7 16世紀には、近世社会の仕組みに大きな影響を与える政策がいくつかできた。そのうちの一つに、全国の土地が石高という統一的な基準で表されるようになったものがある。この政策の名称を書け。

8 江戸時代は、鎖国中ではありながら海外の国や地域と一定の交流があった。右の絵は、将軍の代わりなどに、祝いの使節が日本に派遣されたことを表す。およそ300から500人におよぶ一行の中には、一流の学者や芸術家もいた。右の絵で表す使節の名称として適当なものを、ア～エから一つ選び、その記号を書け。



- ア 遣渤海使 イ 琉球使節
 ウ 朝鮮通信使 エ 慶長遣欧使節

9 A君とB君の会話や示される絵を通して、二人が認識している文化名と人物名の組み合わせとして適当なものを、ア～カから一つ選び、その記号を書け。

A君: 江戸時代の上方を中心に栄えた文化だったね。

そうそう。
 上方の町人が担い手となる文化だったね。
 この絵もその文化の時に描かれたよね。
 たしか当時の元号が使われている文化名
 だったよね。



B君

A君: ところで、現代の私たちがつくる俳句(俳諧)の芸術性を高めた人もいたね。

その人は今の岩手県で“夏草や兵どもが夢の跡”という句をうたっていたね。

B君

A君: そうそう。自己の内面を作品に見事に表現した句だよね。
 たしか「奥の細道」という作品の中の句だね。

- ア { 桃山文化 — 松尾芭蕉 } イ { 化政文化 — 俵屋宗達 } ウ { 元禄文化 — 松尾芭蕉 }
 エ { 桃山文化 — 俵屋宗達 } オ { 化政文化 — 松尾芭蕉 } カ { 元禄文化 — 俵屋宗達 }

10 江戸時代の政治改革を行った人物のうち、年貢だけにたよるのではなく、商工業の発展に注目した経済対策を採り、幕府の財政を立て直そうとした老中がいる。この老中の人名を書け。

(二) 次の略年表を見て、次の1～9の問いに答えなさい。

| 西暦 | できごと |
|-------|-------------------|
| 1874年 | ①民撰議院設立の建白書が提出される |
| 1894年 | ②日清戦争が起こる |
| 1914年 | ③日本が第一次世界大戦に参戦する |
| 1920年 | ④国際連盟が発足する |
| 1929年 | ⑤世界恐慌が起こる |
| 1937年 | ⑥日中戦争が起こる |
| 1941年 | ⑦太平洋戦争が起こる |
| 1945年 | ⑧GHQによる民主化政策が始まる |
| 1989年 | ⑨冷戦が終わる |

1 略年表中①について、自由民権運動と同時期に展開された士族の反乱で、1877年に鹿児島で起きた反乱の名称を書け。

2 略年表中②について、翌年結ばれた下関条約の内容について述べた文として適当でないものを、ア～エから一つ選び、その記号を書け。

ア 清は朝鮮の独立を認める。

イ 遼東半島・台湾・澎湖諸島を日本にゆずりわたす。

ウ 北緯50度以南の樺太(サハリン)を日本にゆずりわたす。

エ 賠償金2億両を日本に支払う。

3 略年表中③について、日本が参戦した背景にある同盟の名称を書け。

4 略年表中④について、国内の反対により国際連盟に加入できなかった国として適当なものを、A～Dから一つ選び、その記号を書け。

A アメリカ B イギリス C フランス D 日本

5 略年表中⑤について、次の文中(A)・(B)にあてはまる言葉の組み合わせとして適当なものを、ア～エから一つ選び、その記号を書け。

アメリカは、大不況に対応するため、ローズベルト大統領の下、(A)という政策を始め、農業や工業の生産を調整する一方で、(B)を助け、労働組合を保護した。

(A) a ブロック経済

b ニューディール

(B) c 公共事業をおこして失業者

d 営利事業を支援して経営者

ア a・c

イ b・c

ウ a・d

エ b・d

(三) 次の1～5の問いに答えなさい。

1 次の日本国憲法条文を読み、(1)～(3)の問いに答えよ。

- ①日本国民は、正義と秩序を基調とする国際平和を誠実に希求し、国権の発動たる戦争と、武力による威嚇又は武力の行使は、国際紛争を解決する手段としては、永久にこれを放棄する。
②前項の目的を達するため、陸海空軍その他の戦力は、これを保持しない。国の交戦権は、これを認めない。

(1) 日本国憲法条文を読み取った文として適当でないものを、ア～エから一つ選び、その記号を書け。

- ア 日本が今後戦争をすることがないという希望が持てる。
イ 日本は国際紛争を解決する手段として、武力を背景に脅すことや、戦闘行為をしないと思われる。
ウ この条文によれば、日本は戦力を持っていないと考えられる。
エ 日本の領域に対する武力攻撃には、日米が共同で対処することが理解できる。

(2) 自衛隊について述べた文として適当なものを、ア～エから一つ選び、その記号を書け。

- ア 自衛隊は日本の防衛だけではなく、国連平和維持活動にも参加している。
イ 自衛隊は戦争の時のみ備えており、災害などの救済には決して参加しない。
ウ 自衛隊員の人件費や自衛隊の設備費などが含まれる防衛関係費の金額は、戦後、軍縮の観点から毎年減少している。
エ 自衛隊の最高指揮権は、自衛隊員が持っている。

(3) 上記の日本国憲法条文は何条のものか、書け。

2 人権について、(1)・(2)の問いに答えよ。

(1) 次の資料は1989年に国連で採択されたものである。この名称として適当なものを、ア～エから一つ選び、その記号を書け。

第1条

この条約の適用上、児童とは、18歳未満のすべての者をいう。ただし、当該児童で、その者に適用される法律によりより早く成年に達したものを除く。

第6条

- ①締約国は、すべての児童が生命に対する固有の権利を有することを認める。
②締約国は、児童の生存及び発達を可能な最大限の範囲において確保する。

ア 世界人権宣言 イ 子どもの権利条約 ウ 国際人権規約 エ 人種差別撤廃条約

(2) バリアフリー化もその一翼を担う、様々な違いを認め、関わる全ての人々が参加して支え合うことを何というか、カタカナで書け。

3 日本の議会について、(1)・(2)の問いに答えよ。

(1) いくつかの議決では衆議院が参議院より優先されることがある。これを何というか、書け。

(2) (1)のようなことが認められている理由として適当なものを、ア～エから一つ選び、その記号を書け。

- ア 衆議院は任期が長く解散もなく、参議院より重責を担っているから。
- イ 衆議院は任期が長い解散もあり、国民の意見と強く結びついているから。
- ウ 衆議院は任期が短い解散はなく、参議院より重責を担っているから。
- エ 衆議院は任期が短く解散もあり、国民の意見と強く結びついているから。

4 日本の議院内閣制とアメリカの大統領制について述べた文として適当なものを、ア～エから一つ選び、その記号を書け。

- ア 日本の内閣は、内閣総理大臣とその他の国务大臣とで組織され、全て国会議員から選ぶ。
- イ アメリカ大統領は、いつでも議会を解散することができる。
- ウ アメリカの大統領制は、議会の議員と大統領を別々に選ぶ。
- エ 日本の議院内閣制では、国民が内閣総理大臣を直接選ぶ。

5 次の文は行政の役割について述べた文である。空欄に入る言葉として適当なものを、ア～エから一つ選び、その記号を書け。

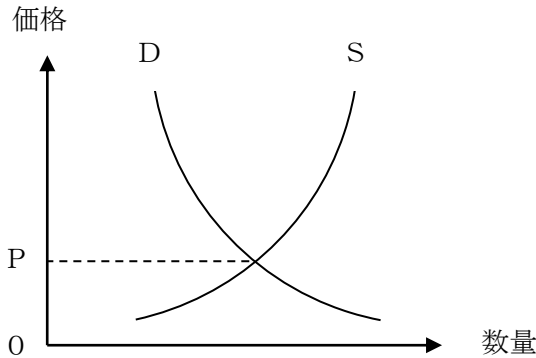
多くの()を必要とし、現代社会がかかえる諸問題、社会保障や教育・雇用対策などに取り組む政府を「大きな政府」という。

- ア 国民
- イ 領域
- ウ 権利
- エ 税金

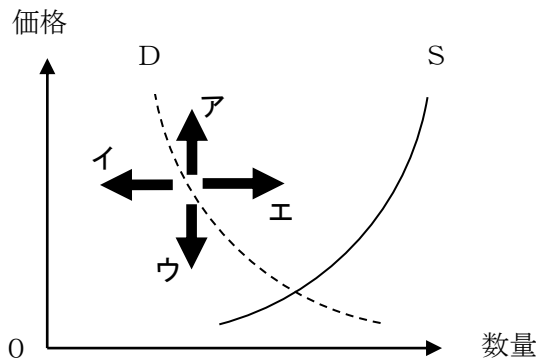
(四) 次の1～3の問いに答えなさい。

1 市場経済について、(1)～(3)の問いに答えよ。

(1) 下のグラフは、ある商品が完全競争市場で取引さされている場合のD（需要）とS（供給）の関係を表すグラフである。図中Pに示されている、需要量と供給量が一致したときの価格の名称を書け。



(2) 国民の家計所得が増加した場合、下のグラフのD（需要）の曲線はどのように移動するか。移動方向として適当なものを、ア～エから一つ選び、その記号を書け。なお、この際のS（供給）は固定されているものとする。



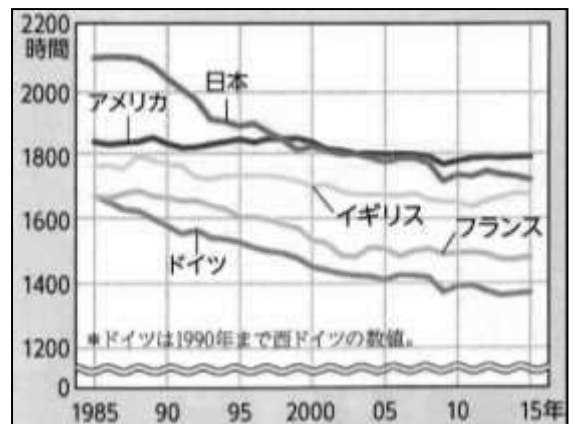
(3) 市場での競争をうながすことを目的として、独占禁止法に基づいて監視や指導を行う組織の名称を書け。

2 現代の労働環境における課題について、(1)～(3)の問いに答えよ。

(1) 右のグラフは、主な国の年間労働時間の推移である。これを読み取り、次の文中(A)・(B)にあてはまる言葉の組み合わせとして適当なものを、ア～エから一つ選び、その記号を書け。

日本の労働者の年間労働時間は、以前より(A)
 になっているが、先進工業国の中では(B)状態にある。

- ア (A) 長く (B) 変わらない
- イ (A) 短く (B) 長い
- ウ (A) 長く (B) 短い
- エ (A) 短く (B) 変わらない



(経済協力開発機構資料)

(2) 「仕事と生活の調和」と訳される言葉を何というか、カタカナで書け。

(3) 労働基準法の内容として適当でないものを、ア～エから一つ選び、その記号を書け。

- ア 労働時間は、1日8時間、1週40時間までと定められている。
- イ 労働者と使用者とは、対等の関係である。
- ウ 使用者は労働者に対して、少なくとも週2日の休日を与えなければならない。
- エ 労働者の賃金については、男女同一でなければならない。

3 現代の企業について、(1)・(2)の問いに答えよ。

(1) 次の文章は、企業の生産活動について述べたものである。文章中(A)・(B)にあてはまる言葉を書け。

企業は、準備したお金で土地や設備、原材料を購入し、労働者をやとって商品を生産し、販売することで収入を得る。この収入から、土地や設備、原材料を購入した費用や、労働者に支払った賃金といった必要経費を引いた残りが、その企業の(A)になる。このように(B)が(A)を生みだし、たくわえられる経済の仕組みを、(B)主義経済とよぶ。

(2) 企業の社会的責任(CSR)の例として適当なものを、ア～エから一つ選び、その記号を書け。

- ア インターネットを介し、不特定多数の人々から資金を調達する。
- イ 循環型社会の構築のため、水使用量の低減を推進する。
- ウ 企業の活動拠点を、国内だけでなく、複数の国に置く。
- エ 新製品の販売を促進するため、インターネットに広告を出す。

(五) 次の1～5の問いに答えなさい。

1 右の図は、日本の領域と排他的経済水域を表したものである。これについて述べた文として内容が適当なものを、ア～エから一つ選び、その記号を書け。



- ア 日本の領域のうち最も南に位置しているのは、南鳥島である。
- イ 日本の領海の面積は、排他的経済水域よりも広い。
- ウ 排他的経済水域に囲まれている海域がある。
- エ 排他的経済水域を合わせた日本の面積は、アフリカ大陸の面積よりも大きい。

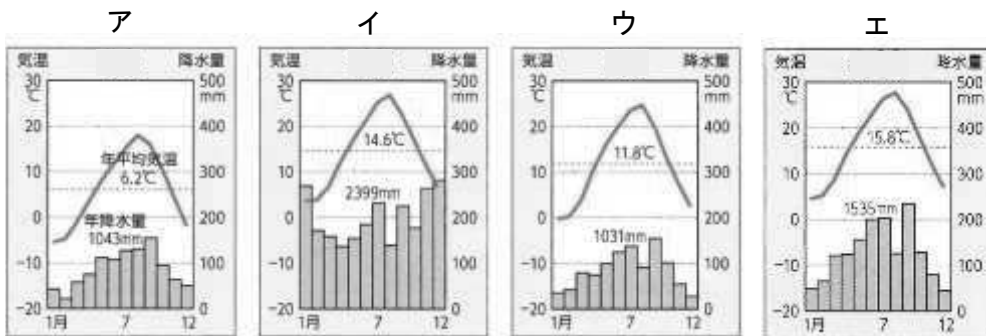
2 右の図は、日本周辺における冬季の風向きなどを表したものである。また、次の文章は図について述べたものである。これらを見て、(1)・(2)の問いに答えよ。



シベリア上空のかわいた空気は、(A)風になって暖流の(B)海流が流れる日本海上で水蒸気を大量にふくみ、日本海側の地域に雨や雪を降らせる。中央の山脈をこえた(A)風は水蒸気が少ないため、太平洋側ではかわいた風がふいて晴天が続く。


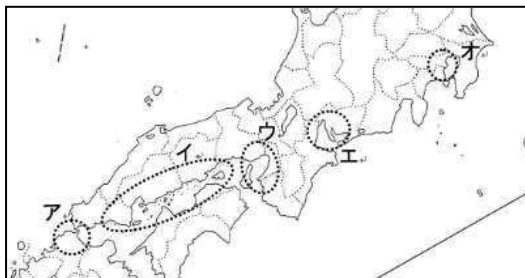
(1) 文章中(A)・(B)にあてはまる言葉を書け。

(2) 図中のX地域における雨温図として適当なものを、ア～エから一つ選び、その記号を書け。



3 右のグラフは、中京工業地帯の工業生産額の移り変わりを表したものである。これをみて、(1)・(2)の問いに答えよ。

(1) 中京工業地帯の位置として適当なものを、ア～オから一つ選び、その記号を書け。



(「工業統計表」平成 29 年他)

(2) グラフの内容について述べた文として内容が適当でないものを、ア～エから一つ選び、その記号を書け。

- ア 1960年に比べて2016年の工業生産額の合計は20倍以上に増加した。
- イ いずれの年代においても「せんい」の割合は最下位である。
- ウ 1980年以降はどの年も「輸送用機械」の割合が最も大きい。
- エ 「化学」は2000年から2016年にかけて割合は減少しているが、生産額は増加している。

4 右の写真は北海道根室市に見られる、Y国の文字を使った標識である。次の文章を参考にして、Y国の国名を書け。

根室市や釧路市は、ベーリング海やオホーツク海で行われる北洋漁業の拠点になった。現在ではY国の漁船もこれらの港に立ち寄り、取り引きが行われている。



5 右の図は、東京23区の昼夜間人口を表したものである。東京の都心部で昼間人口が夜間人口よりも多くなる理由を、人の動きに着目して説明せよ。



※ () 内の数値は夜間人口を1.0としたときの昼間人口の割合。

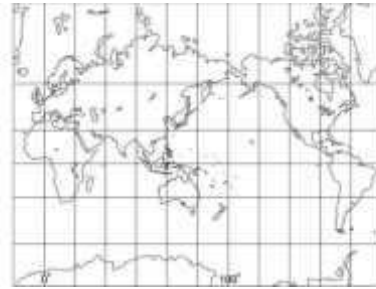
(六) 次の1～5の問いに答えなさい。

1 次のA～Cは、図法の異なる世界地図である。また、I・IIは、地図の特徴を表している。I・IIにあてはまるものを、A～Cから一つずつ選びその記号を書け。

A

B

C



I 距離を調べる地図

II 国の広さを調べる地図

2 成田空港(東経135度)を10月8日11:00に飛行機で出発した。7時間30分かけてホノルル空港(西経150度)に到着した。このときの日時を書け。ただし、時刻は24時間表記とする。

3 アメリカ合衆国について、(1)～(3)の問いに答えよ。

(1) 次の文章は、図X中のa地点を出発しb地点まで移動したときの様子を表したものである。文章中(ア)・(イ)にあてはまる言葉を書け。

太平洋から(ア)山脈をこえ、東にはグレートプレーンズという乾燥した大平原が広がり、さらに東にはプレーリーという大草原が広がっている。さらに進むと、中央平原を流れる(イ)川の支流を渡って大西洋にたどり着く。

図X



(2) 図Xのcは、西経100度の経線である。cより西側の地域で盛んな農牧業として適当なものを、ア～エから一つ選び、その記号を書け。また、その理由を降水量・農作物の二つの言葉を必ず用いて次の文を完成させよ。

ア 酪農 イ 放牧 ウ 小麦 エ 綿花

西経100度より西側は()ため。

(3) 右の写真について、名称とその特徴を述べた文の組み合わせとして適当なものを、ア～エから一つ選び、その記号を書け。

- 【名称】 I センターピボット
II フィードロット

- 【特徴】 X スプリンクラーがついたかんがい装置を用いながら、小麦やとうもろこしなどを栽培している。
Y 降水量が多いことを生かし、大量の茶の栽培を行っている。



ア I=X イ I=Y ウ II=X エ II=Y

4 次の文章は、中国について述べたものである。文章中(A)・(B)にあてはまる言葉の組み合わせとして適当なものを、ア～エから一つ選び、その記号を書け。

中国では、1980年代から改革が進められ、シェンチェンやアモイなどに、外国企業を受け入れるために(A)を設けたりすることで工業化を進めた。そのため、(B)では工業化が遅れており、仕事と収入を求めて出かせぎに行く人々が多い。

- ア (A) 新興工業経済地域 (B) 沿岸部
イ (A) 経済特区 (B) 沿岸部
ウ (A) 新興工業経済地域 (B) 内陸部
エ (A) 経済特区 (B) 内陸部

5 次の文章はある国について述べたものである。文章を読み、あてはまる国名を書け。

この国では、1990年代から経済政策を改め、外国企業の受け入れなどを活発に行った。日本の企業も自動車などの工場を建設して生産量を増やしている。また、南部ではICT産業の中心地で欧米の企業が進出している。このような国の急速な成長は、教育水準の高さが支えており、技術者を育てるために国や州の援助もある。共通言語になっている英語を話す人も多く、宗教上牛肉を食べない人が人口の大多数を占めている。人口は年々増加傾向にあり、2022年ごろには世界一になると予想されている。